

* مدارهای مختلطی و الکتاد:

$\nabla \cdot \vec{B} = 0$ (مسیر میدان نسبتاً) $\nabla \cdot \vec{D} = \rho$ تمدن کوس
 $\nabla \times \vec{E} = - \frac{\partial \vec{B}}{\partial t}$ قانون ساراه $\nabla \times \vec{H} = \vec{J} + \frac{\partial \vec{D}}{\partial t}$ قانون امپر
 $\vec{B} = \mu_0 \mu_r \vec{H}$ $\vec{D} = \epsilon_0 \epsilon_r \vec{E}$ در سیستم‌های فزکانس با بین قدرت
 $\int_s \vec{J} \cdot d\vec{s} = \oint_c \vec{H} \cdot d\vec{l}$ $\nabla \times \vec{H} = \vec{J}$

* قوانین میدان مختلطی:

منبع میدان مختلطی، حرکت بارهای الکتریکی (جریان) به وجود می‌آید.
 قانون لورنس: حرکت بار الکتریکی q با سرعت \vec{v} در میدان مختلطی \vec{B} نیروی را به بار الکتریکی اعمال می‌کند
 و به قانون لورنس معروف است.

$\vec{F} = q \vec{v} \times \vec{B}$
 $d\vec{F} = dq (\vec{v} \times \vec{B})$ $d\vec{F} = (I \times B) dl$ $\rightarrow F = \oint_c I \cdot dl \times B$
 برای بارها توزیع شده: $dq \vec{v} = I \cdot dl$

* قانون بیوساوان: میدان مختلطی از حرکت بار الکتریکی q تحت سرعت \vec{v} از طریق این قانون تعریف می‌شود.
 خطای شار معنی در نقطه ای به حاصله R از بار q در فضای آزاد مطابق قانون بیوساوان به صورت زیر
 تعریف می‌شود: \hat{a}_r بردار واحد از بار به طرف نقطه P اندازه گیری

$\vec{B} = \frac{\mu_0 q}{4\pi} \frac{\vec{v} \times \hat{a}_r}{r^2}$
 $dq \vec{v} = I dl$ $B = \frac{\mu_0}{4\pi} \oint_c \frac{I dl \times \hat{a}_r}{r^2}$

قانون امپر:

خطای شار مختلطی:
 $\oint_c \vec{B} \cdot d\vec{l} = \begin{cases} \mu_0 I & \text{مسیر جری I را دربر می‌گیرد} \\ 0 & \text{نمی‌گیرد} \end{cases}$

ضریب نفوذپذیری مغناطیسی و شدت میدان مختلطی،

μ_0 ضریب نفوذپذیری مختلطی فضای آزاد $4\pi \times 10^{-7}$

محیط سیستم‌های الکتر و مختلطی معادله مختلطی است.

برای مواد فرومختلطی μ_r (2000 - 8000)

هر ماده فرومختلطی ضریب نفوذپذیری نسبی μ_r دارد که نسبت به یک است.

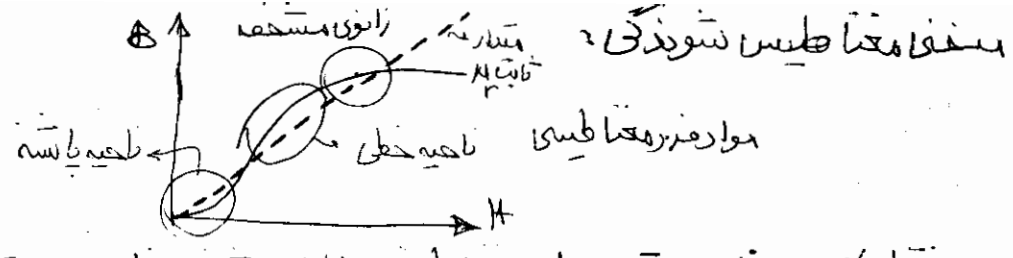
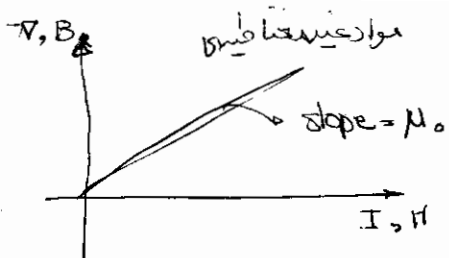
μ_r و نسبت به $\frac{B}{I}$ می‌تواند خطی (بزرگ مقدار) یا غیر خطی یعنی وابسته به میدان
 مولد خود باشد تقسیم می‌شوند.

1- مواد غیرمختلطی (مواد عایق و مختلطی) ضریب نفوذپذیری آن‌ها معادل μ_0 است.

2- مواد فرومختلطی:

I مواد فرومختلطی نرم، اکثر سیستم‌های الکتر و مختلطی را تشکیل می‌دهد.

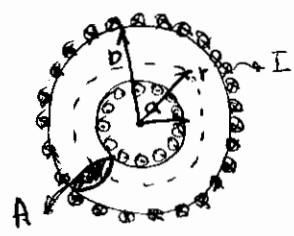
II مواد فرومختلطی سخت: (ساخت آهن ربای دائم) در ماشین آهن ربای دائم از این مواد استفاده می‌شود.



* نقطه کار بهترین سیستم‌های مغناطیسی، رانوی مشخصه با پهنای می شود.
 * برای خطی کردن مشخصه غیرخطی آن را یعنی مشخصه مغناطیسی شیب بیشتری را خطی کنیم (مقدار ثابت μ_r)

اثر جریان را N بار دور بزنند $\oint_c H \cdot dl = NI$ اثر یک دور $\oint_c H \cdot dl = I$

$IN = \text{نیروی محرکه مغناطیسی} = mmf = F$



شان: شدت میدان را داخل و خارج این ماد مغناطیسی بدست آوردن بسیار آسان است.
 میدان مغناطیسی کنید.

$r < a : \oint H \cdot dl = 0$

$r > b : \oint H \cdot dl = 0$

$a < r < b : H = \frac{NI}{2\pi r}$

$r = r_{ar} \Rightarrow H_{ar} = \frac{NI}{2\pi r_{ar}}$

شدت مغناطیسی $\Phi = \int B \cdot dA \Rightarrow \Phi = \frac{\mu_0 N^2 I A}{2\pi r_{ar}}$

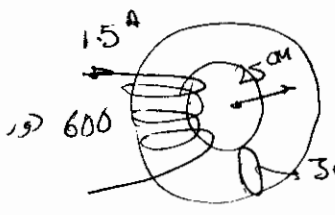
$\Phi = F \frac{\mu_0 N^2 A}{2\pi r_{ar}}$

$\mathcal{L}_{ar} = 2\pi r_{ar} \Rightarrow \Phi = F \frac{\mu_0 N^2 A}{\mathcal{L}_{ar}}$



مقاومت باروکاتس مغناطیسی $= \frac{\mathcal{L}_{ar}}{\mu_0 N^2 A} = \mathcal{R}$ $\Phi = \frac{F}{\mathcal{R}}$ $\mathcal{R} = \frac{\mathcal{L}_{ar}}{\mu_0 N^2 A}$

مثال 1: در یک سیمه الکتریکی مغناطیسی مطابق شکل زیر با سطح مقطع متوسط 25 cm^2 و طول مقطع 30 cm تعداد دور سیمه 600 دور، جریان عبوری 1.5 آمپر ضرب نفوذ پذیری مغناطیسی 1500 مقدار زیر را محاسبه کنید. مقاومت مغناطیسی \mathcal{R} هسته، mmf و شار و چگالی شار.



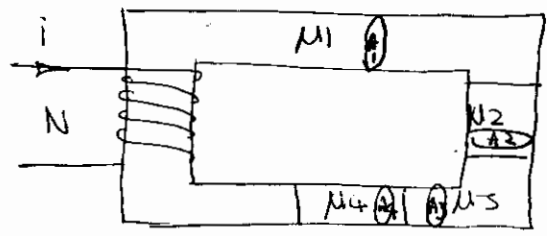

$\mu_r = 1500$ $\mathcal{R} = 2.78 \times 10^6 \frac{\text{At}}{\text{wb}}$

$F = NI = 900 \text{ At}$

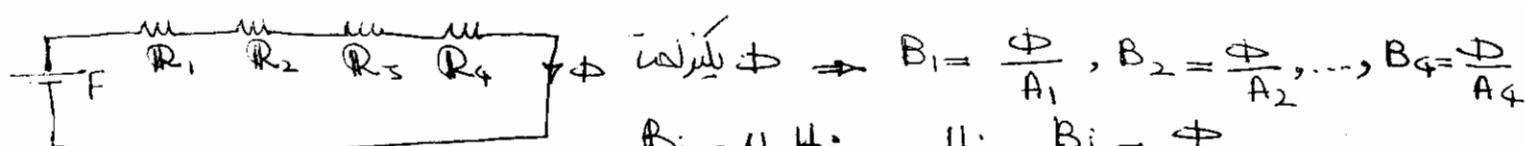
$\Phi = \frac{F}{\mathcal{R}} = 3.24 \times 10^{-4} \text{ wb}$

$A = \frac{F}{\mathcal{L}_{ar}} = 57246 \frac{\text{At}}{\text{m}}$

$B = \frac{\Phi}{A} = 1.08 \text{ Tesla}$



سری کردن مدارهای مغناطیسی:
 فرض: اثر میدان مغناطیسی دیگر لخت در سیمه حاکم باشد مدار مغناطیسی می تواند در صورت سری در نظر گرفته شود.

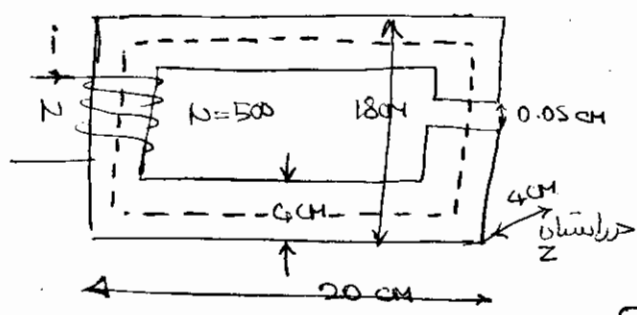


$$B_i = \mu_i H_i \quad H_i = \frac{B_i}{\mu_i} = \frac{\Phi}{\mu_i A_i}$$

$$F = NI = \Phi \left(\frac{l_1}{\mu_1 A_1} + \frac{l_2}{\mu_2 A_2} + \dots + \frac{l_4}{\mu_4 A_4} \right)$$

$$R_i = \frac{l_i}{\mu_i A_i} \quad F = (R_1 + R_2 + R_3 + R_4) \Phi$$

مثال 2: سازه یک مدار مغناطیسی تک حلقه‌ای در زیر نشان داده شده. آن را خطی سازی کنید تا در این سازه شکل گیرد با ضرب نفوذپذیری نسبی 3080 جریان نسبی بیخ را محاسبه کنید.



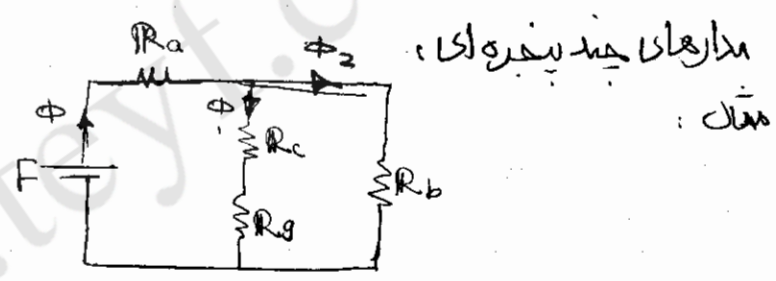
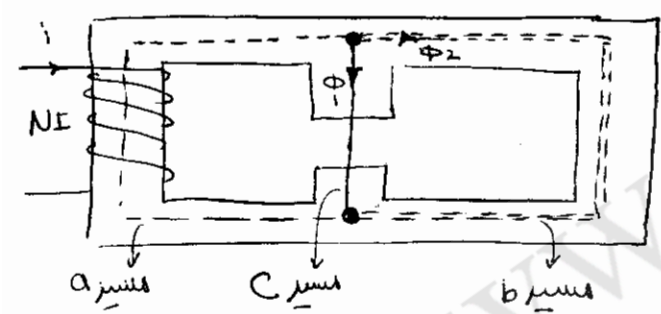
$$l_{or} = 60 \text{ cm} \quad A_i = A_g = 16 \times 10^{-4} \text{ m}^2$$

$$R_g = \frac{l_g}{\mu_0 \mu_r A_g} = 248.68 \times 10^3$$

$$R_i = \frac{l_i}{\mu_r \mu_0 A_i} = 74.97 \times 10^3$$

$$\Phi = B \cdot A = 1.6 \times 10^{-5} \text{ wb}$$

$$F = \Phi (R_i + R_g) = 517.85 \text{ At}$$



$$F = H_a l_a + H_g l_g + H_c l_c$$

$$H_a = \frac{\Phi}{A_a \mu} \quad H_c = \frac{\Phi_1}{A_2 \mu} \quad H_g = \frac{\Phi_1}{A_g \mu_0}$$

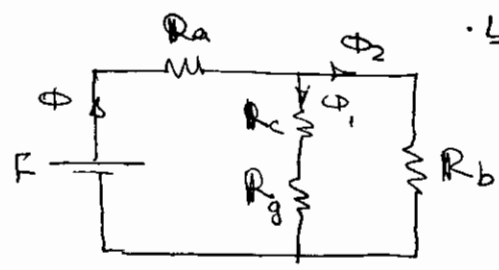
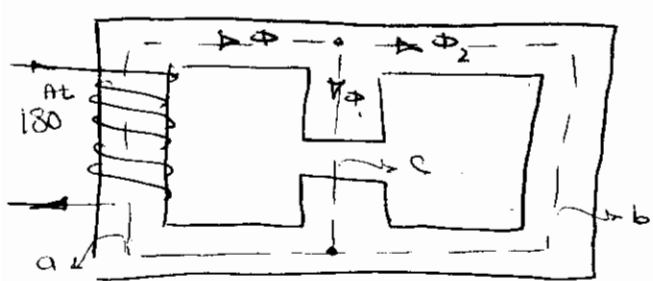
$$F = \Phi R_a + \Phi_1 (R_c + R_g) \quad R_a = \frac{l_a}{\mu A_a} \quad R_c = \frac{l_c}{\mu A_c} \quad R_g = \frac{l_g}{\mu_0 A_g}$$

$$\Phi = \Phi_1 + \Phi_2$$

$$0 = H_g l_g + H_c l_c - H_b l_b \Rightarrow 0 = \Phi_1 \left(\frac{l_g}{\mu_0 A_g} + \frac{l_c}{\mu A_c} \right) - \Phi_2 \left(\frac{l_b}{\mu A_b} \right)$$


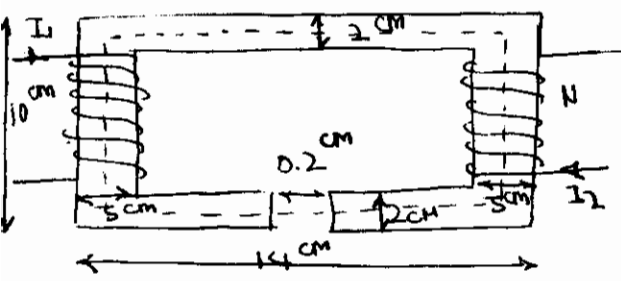
$$0 = \Phi_1 (R_g + R_c) - \Phi_2 R_b \quad R_b = \frac{l_b}{\mu A_b}$$

مثال 3: در سازه دو پیچ‌های نشان داده شده $\mu_r = 400$ ، $l_c = 36 \text{ cm}$ ، $85 \text{ cm} = l_a = l_b$ ، $400 = \mu_r$ آن را پیچ دور و پیچ 180 آن را پیچ دور باشد خطی سازی کنید.



$$B = 0.11 \text{ Tesla}$$

مثال 4: سازه مغناطیسی شکل زیر دارای سرب نفوذپذیری $\mu_r = 10000$ ، ضخامت 2 cm ، تعداد دور سیم پیچ ها 400 و جریان در سیم 1 A به ترتیب 1 A ، 1.2 A باشد. مطلوبست مقدار شار و حاصله هوایی در این سازه.



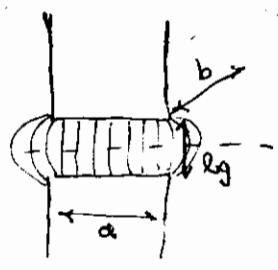
$$R_i = \frac{l_i}{\mu \mu_0 N^2 A_i} = 32.4 \times 10^{-5} \frac{\text{A}}{\text{wb}}$$

$$R_g = \frac{l_g}{\mu_0 A_g} = 5.97 \times 10^6 \frac{\text{A}}{\text{wb}}$$

$$\Phi = \frac{N(I_1 + I_2)}{R_g + R_i} = \frac{400(1 + 1.2)}{5.97 \times 10^6 + 32.4 \times 10^{-5}} \Rightarrow \Phi = 0.217 \times 10^{-3} \text{wb}$$

اثر انحراف شار و حاصله هوایی (Fringing)

مدلی وجود هوا با سطح مقطع را بیشتر از مقدار واقعی در نظر می گیریم:



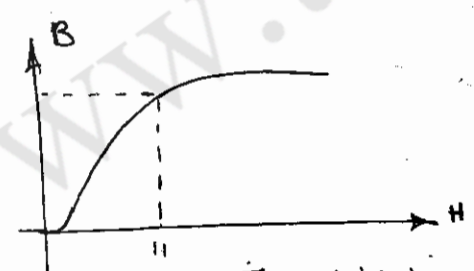
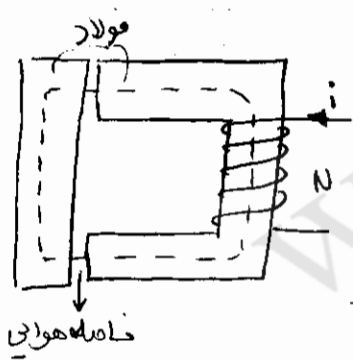
$$A_i = a \times b \quad A_g = (a + l_g)(b + l_g)$$

اثر حاصله هوایی در افت μ_{eff} : برای محاسبه سیم پیچ ای توان استفاده کرده بشرط اینکه فرض کنیم μ_r آهن بسیار بزرگ است. 2- حاصله هوایی بسیار کوچک است. حال از روابط زیر استفاده می کنیم:

$$R_i = \frac{l_i}{\mu_r \mu_0 N^2 A_i} \quad R_g = \frac{l_g}{\mu_0 A_g} \quad R_g = R_i \frac{\mu_r}{l_i / l_g}$$

* در این شرایط ای توان سیم پیچ ای آهن را به صورت اتصال کوتاه در نظر گرفت $\Rightarrow \frac{l_i}{l_g} \ll \mu_r$ ، $\frac{R_g}{R_i} \gg 1$: نفوذ

سیستم غیر خطی:

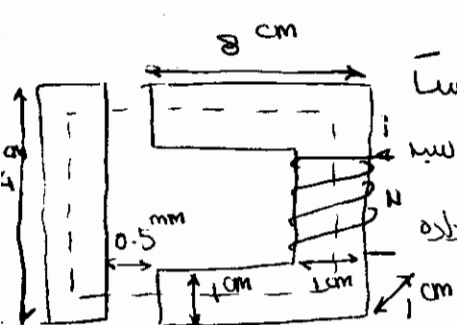


در دو حالت مختلف شکل سیستیم های غیر خطی انجام می شود:

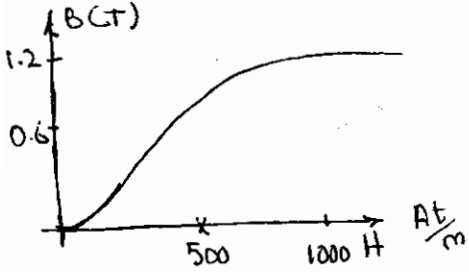
- 1) شار در داخل سیستیم مشخص و μ_{eff} ورودی سیستیم محاسبه شود.
- 2) μ_{eff} داخلی سیستیم مشخص و شار و حاصله هوایی داخلی سیستیم را محاسبه کنیم.

1) در حالت اول μ_{eff} حاصله هوایی را محاسبه می کنیم و سپس H را از روی مشخصه $B-H$ بدست آورده حال ای توان μ_{eff} ورودی را به دست آورد حال جاریه:

$$N i = H \cdot l$$



مثال 5: سیستیم غیر خطی مغناطیسی به صورت زیر مغناطیسی مطابق شکل معروف است. آهن شاری برابر با $50 \mu_{wb}$ داخل سازه به وجود می آید. μ_{eff} مورد نیاز سیستیم را محاسبه کنید. حتماً هسته از فولاد درخته گری بوده و معنی $H \rightarrow B$ آن مطابق شکل داده شده است. اثر انحراف شار را هم در نظر بگیرید.



$$l_i = 2(3 + 7.5) + 2(0.5) = 22 \text{ cm}$$

$$l_g = 1 \text{ mm} \quad A_i = 10^{-4} \text{ m}^2 \quad A_g = (1.05 \times 10^{-2})^2 = 110.25 \times 10^{-6}$$

$$B_g = \frac{\Phi}{A_g} = \frac{50 \times 10^{-6}}{110.25 \times 10^{-6}} = 0.4535 \text{ T}$$

$$H_g = \frac{B_g}{\mu_0} = 360.9 \times 10^3 \quad F_g = H_g l_g = 360.9$$

$$B_i = \frac{\Phi}{A_i} = 0.5 \text{ T} \quad H_i = 350 \frac{\text{At}}{\text{m}} \quad F_i = H_i l_i = 77 \frac{\text{At}}{\text{m}} \quad \text{mm} \quad F_i + F_g = 437.9 \text{ At}$$

2) در حالتی که ورودی مشخص و Φ معین باشد.

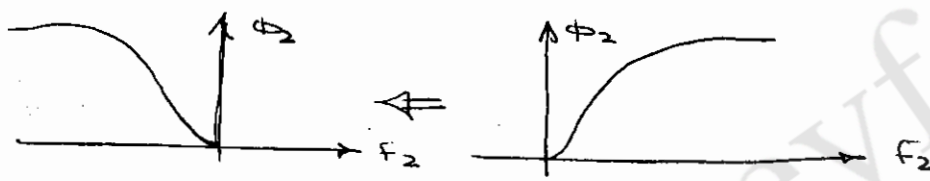
i) به صورت سعی و خطا: فشار را در داخل هسته فرض نماییم و mmf روی قسمت‌های مختلف را جمع نماییم تا به mmf ورودی برسیم.

ii) روش ترمیمی: به صورت زیر انجام می‌گیرد.

الف) معنی B-H برای همواره را به معنی Φ -F تبدیل می‌کنیم به صورتی که:

$$\Phi = BA \quad \text{و} \quad F = Hl$$

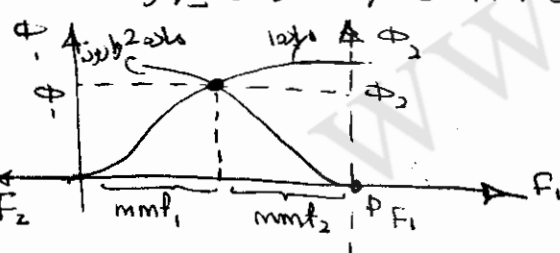
ب) مشخصه Φ -F ماده 2 را به صورت معکوس رسم کرده به طوری که بردار F ماده 2 در طرف منفی رسم شود.



ج) در روی مشخصه Φ_1 - F_1 از ماده 1 به اندازه mmf داده شده روی F_1 جدا می‌کنیم.

د) مشخصه Φ_2 - F_2 وارونه را طوری قرار می‌دهیم که مبدأ آن روی نقطه P قرار بگیرد. از تلاقی این

دو مشخصه فشار مربوط به سیستم مشخص خواهد شد همچنین mmf هر کدام از مواد نیز از محور افقی تعیین خواهد شد.



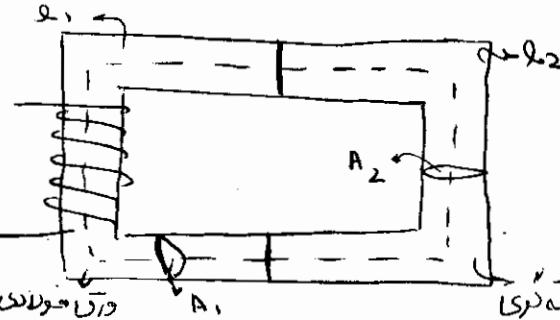
> ویدئو در روش ترمیمی:

اگر سطح مقطع های دو ماده یکسان باشد تبدیل B به Φ لازم نخواهد بود.

و اگر سطح مقطع متفاوتی طول مواد مختلف یکسان باشد تبدیل H به F لازم خواهد بود.

مثال: سازه مغناطیسی شکل زیر معروف است. چگالی شار و شدت میدان مغناطیسی در این دو ماده سازه را

برای حالتی که زیر حساب نماییم. الف) mmf اعمالی 800 At باشد. ب) mmf اعمالی 1200 At. ج) mmf اعمالی 1400 At در نظر گرفته شود.



$$l_1 = l_2 = 0.4 \text{ m}$$

$$A_1 = A_2 = 8 \times 10^{-4} \text{ m}^2$$

ورق فولادی

$$\mu_r = 1000$$

$$\mu_0 = 4\pi \times 10^{-7}$$

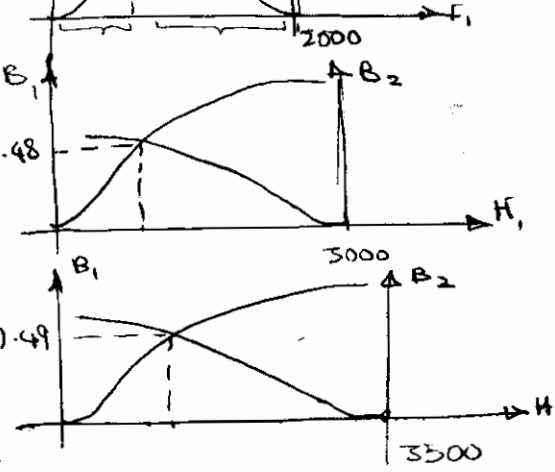
$$\mu = \mu_r \mu_0$$

فولاد ریخته‌گری

$$B_2$$

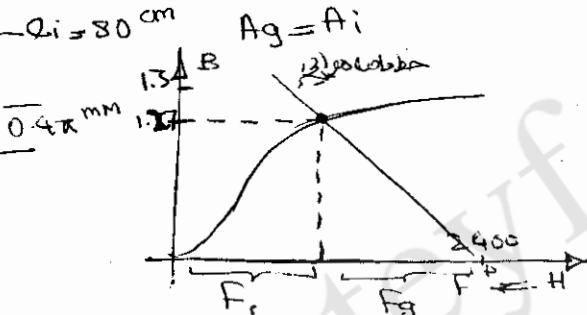
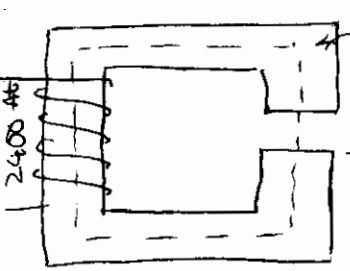
$$H_1$$

$F = H_1 + H_2 \Rightarrow H_1 + H_2 = 2000$ $F = H_1 \rho_1 + H_2 \rho_2 \Rightarrow F = \rho_1 (H_1 + H_2)$ (الف)
 $\rho_1 = \rho_2 \Rightarrow \frac{F}{\rho_1} = H_1 + H_2$
 $\Phi_1 = \Phi_2 = 1.35 \times 8 \times 10^{-4} = 10.8 \times 10^{-4} \text{ وِب}$



(ب)
 $H_1 + H_2 = \frac{1200}{0.4} = 3000$
 $H_1 = 450 \quad H_2 = 2550 \Rightarrow \Phi = 11.84 \times 10^{-4} \text{ وِب}$
 (ج)
 $H_1 + H_2 = \frac{1400}{0.4} = 3500$
 $H_1 = 550 \quad H_2 = 1950$
 $B_1 = B_2 = 1.49 \Rightarrow \Phi = 1.49 \times 8 \times 10^{-4} = 11.92 \times 10^{-4} \text{ وِب}$

مثال 7: در سازه مغناطیسی شکل زیر با هسته‌ای از جنس فولاد ریخته‌گری با طول 80 cm و طول فاصله هوایی $0.4 \pi \text{ mm}$

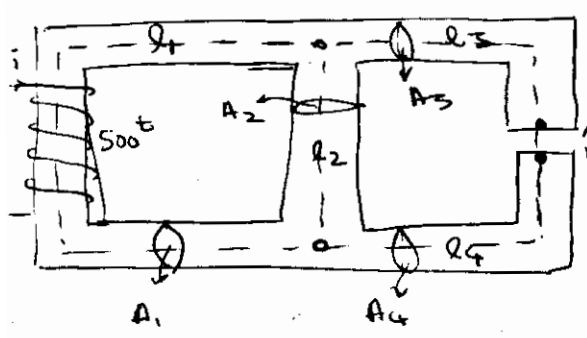


$F_g = H_g \rho_g = \frac{B_g \rho_g}{\mu_0} = \frac{B_g (0.4\pi)}{4\pi \times 10^{-7}}$
 $\Rightarrow F_g = 1000 B_g$
 $B = 1.27 = B_1 = B_2$

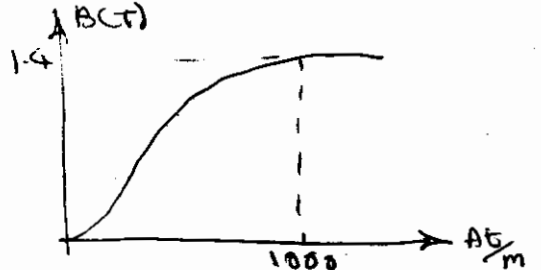
مثال 8: یک هسته فولادی با سطح مقطع دایره‌ای دارای قطر 50 cm و محیط متوسط 80 cm موجود است. اگر از این هسته فولادی 1 mm برداشته شود و سیم پیچی با تعداد دور 500^t روی آن پیچیده شود محلول نسبت الی (حسابه جریان برای ایجاد شار 0.75 T می‌باید و در فاصله هوایی 2 A باشد شار حاصل در فاصله هوایی. مشخصه آهن فولادی مطابق روی بروی باشد.

$H (\text{A} \frac{\text{T}}{\text{m}})$	200	400	600	800	1000	1200	1400	1600	1800	2020
$B (\text{T})$	0.1	0.32	0.6	0.9	1.08	1.18	1.27	1.32	1.36	1.4

مثال 9: سازه مغناطیسی مطابق شکل مفروض است. اگر در فاصله هوایی این سازه شار 2 mwb فرض شود با تعداد دور 500^t پیچی ورودی سیم پیچی را محاسبه کنید. جنس هسته از جوفه فولاد سیلیکونی و مشخصه آن مطابق شکل داده شده است.



$l_1 = 40 \text{ cm} \quad l_2 = 24 \text{ cm} \quad l_3 = l_4 = 26 \text{ cm}$
 $A_1 = 90 \text{ cm}^2 \quad A_2 = 12 \text{ cm}^2 \quad A_3 = A_4 = 25 \text{ cm}^2$
 $l_g = 25 \times 10^{-3} \text{ cm} \quad A_g = 26 \text{ cm}^2$



تقسیم بندی مواد مغناطیسی و خواص آن ها:

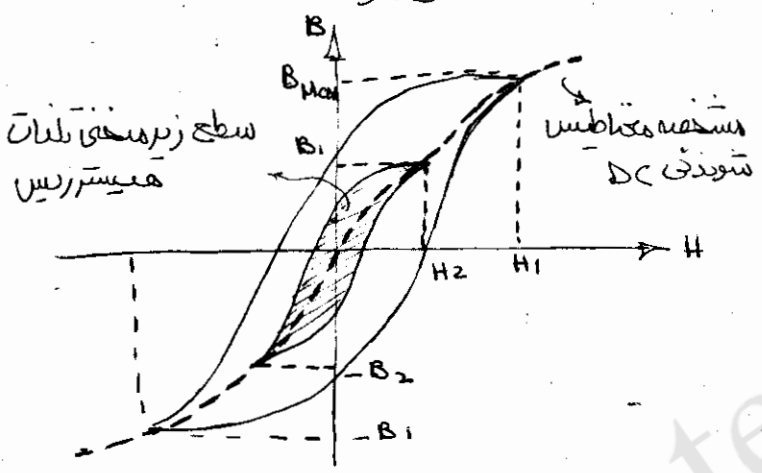
بر اساس ضریب μ_r تقسیم می شوند:

- i- (1) مواد پارامغناطیس ($\mu_r > 1$)
 - (2) مواد دیامغناطیس ($\mu_r < 1$)
- برای تحلیل μ_r این مواد را بر این قرار می دهیم.

ii- (1) مواد فرومغناطیس: فرودخا میس نرم: آهن، نایزهای نیکل، کوبالت، آلومینیوم، تانتالوم و فولادهای سیلیکونی
 فرومغناطیس سخت: (آهن برای دانه) شامل آلینکو - فلزات کرومیوم و آلیاژهای آن با نیکل، کوبالت و مواد کمیاب مانند نئودیمیوم.

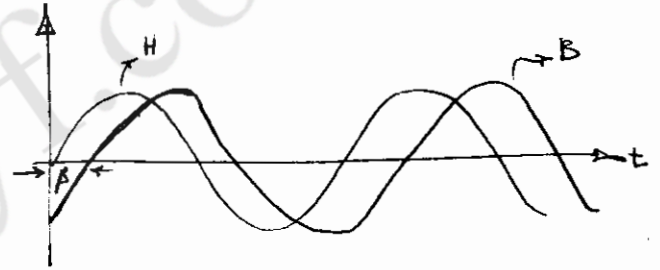
(2) مواد فزوی مغناطیس → فریت نرم: از این مواد در فرکانس های بالا استفاده می شود. چون تلفات آن ها در فرکانس های بالا کم است.

(3) مواد سوپر پارامغناطیس ها (پودر آهن یا Hoya benum و دیگر) نام دیگر آن بی هالوی است و برای فرکانس بالا استفاده می شود.



خواص مواد فرومغناطیسی در میدان های متناوب:

- * B نسبت به H پس فاز است.
- B تاخیر فاز است.

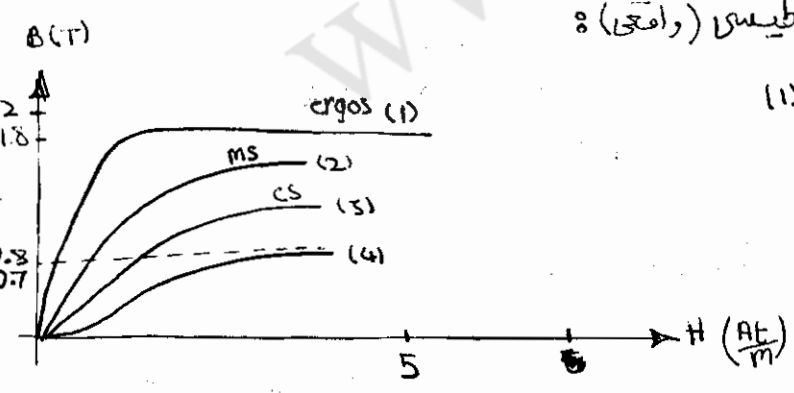


وادیسته جریان است که در هسته به وجود می آید.

تلفات هسته = تلفات هیستریزس + تلفات فوکو

مخفی های مشخصه های B-H مواد فرومغناطیسی (واقعی):

- (1) ماده فرومغناطیس فولاد جهت داده شده (1)
- (2) فولاد نرم (2) (ms) (mild steel)
- (3) فولاد (3) (5)
- (4) چدن (4) (ci)



نیروی محرکه القاشده و نیروی مکانیکی:

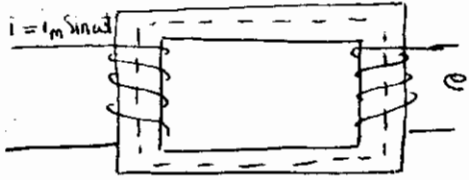
$$\nabla \times E = - \frac{\delta B}{\delta t}$$
 (قانون فاراده) $\Rightarrow \oint E \cdot dl = - \int \frac{\delta B}{\delta t} ds$ نیروی محرکه القاشده

$$e = -N \frac{\delta \Phi}{\delta t}$$
 (تعداد دور کلاف N) $\Rightarrow \lambda = N\Phi = \text{شار در بر گیرنده} \Rightarrow e = \frac{\delta \lambda}{\delta t}$

در سه حالت ولتاژ القاشده از تغییر شار به وجود می آید:

- (1) القاد استاتیکی: آلر سیه (هادی) درون میدان ساکن باشد و شار درون آن متغیر نسبت به زمان باشد.
- القاولتاژ در این حالت القاد استاتیکی است.

مثال (القاد استاتیکی): به این حالت القاد ترانسفورماتر کابین میامند. اساس کار ترانسفورماترها



2) القاد دینامیکی: در این حالت چگالی شار در سیم پیچ ساکن ولی هادی داخل شار ساکن حرکت می کند.



مثال (القاد دینامیکی): در ماشین های DC از این نوع القاد استفاده می شود.

3) القاد ترکیبی (القاد استاتیکی و دینامیکی با هم): برای ماشین های AC است.

القاد دینامیکی: یک هادی به طول l داخل یک میدان B در جهت عمود بر B با زاویه ای با آن حرکت کند با سرعت V

θ : زاویه بین جهت میدان و حرکت هادی باشد

$$e = |V \times B| \cdot l = B l V \sin \theta$$

$$e_{max} = B l V$$

اندوکتانس:

$$e = N \frac{d\phi}{dt} = N \frac{d\phi}{di} \cdot \frac{di}{dt} = L \frac{di}{dt}$$

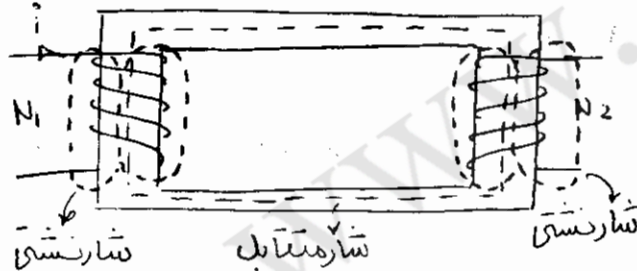
برای سیم پیچ های خطی $L = \frac{\lambda}{i}$

اندوکتانس خودی $L = N \frac{d\phi}{di} = \frac{d\lambda}{di}$

$i = \frac{Hl}{N}$, $\lambda = BAN$ $\Rightarrow L = \frac{N^2 BA}{Hl}$

$\Rightarrow L = \frac{N^2 BA}{Hl} = N^2 \mu \frac{A}{l} = \frac{N^2}{R} = N^2 \Phi$ \rightarrow پیمایش

اندوکتانس متقابل:



اندوکتانس خودی سیم پیچ 1 $L_1 = M + l_1$

اندوکتانس متقابل اندوکتانس متقابل

$L_2 = M + l_2$

$M_{12} = \frac{\lambda_{12}}{i_2}$ شار در سیم پیچ 1 از جریان سیم پیچ دوم $= \lambda_{12}$

$M_{12} = M_{21} = M$

$M_{21} = \frac{\lambda_{21}}{i_1}$ شار در سیم پیچ 2 از جریان سیم پیچ اول $= \lambda_{21}$

* اگر نسبت شار در سیم پیچ ها قابل صرف نظر کردن باشد کوپلاژ نسبی سیم پیچ ها حاوی یا برده آل می باشد

$M = k \sqrt{L_1 L_2}$ (k کوپلاژ) \Rightarrow اگر قابل صرف نظر کردن نباشد

القاد ترکیبی:

$\lambda = Li \Rightarrow e = L \frac{di}{dt} + i \frac{dL}{dt}$

القاد استاتیکی القاد دینامیکی

القاد استاتیکی:

$\phi = \phi_m \sin \omega t \Rightarrow e = N \frac{d\phi}{dt} = \omega N \phi_m \cos \omega t$

مقدار مؤثر $E = \frac{2\pi}{\sqrt{2}} f N \phi_m = 4.44 f N \phi_m = 4.44 f N B_m A_c$

* ولتاژ القاشده نسبت به شار اعمال شده 90° بیش مار است.

توان:

$$P = ie = i \frac{d\lambda}{dt}$$

انرژی ذخیره شده الکتریکی در میدان مغناطیسی در زمان

ت₁ تا t₂ در صورتیکه λ از λ₁ به λ₂ افزایش پیدا کند به صورت زیر می باشد.

$$W_p = \int_{t_1}^{t_2} P dt = \int_{\lambda_1}^{\lambda_2} i d\lambda$$

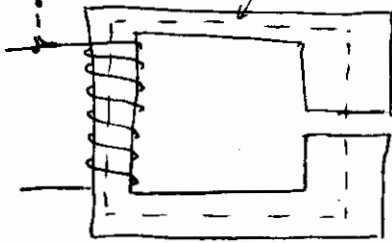
$$W_p = \int_{B_1}^{B_2} \left(\frac{H_c l_c}{N} \right) (A_c N) dB_c = A_c l_c \int_{B_1}^{B_2} H_c dB_c$$

* A_c l_c حجم هسته مغناطیسی است.

چگالی انرژی در میدان به صورت زیر می باشد.

$$W_p = \int_{B_1}^{B_2} H_c dB_c \quad \frac{J}{m^3}$$

مثال: در شکل هسته پستان داده شده نسبی یعنی جاری 600، μ_r = 6000 برای هسته در نظر گرفته شود. ابعاد مشخصات فیزیکی هسته به ترتیب عبارتند از: A_c = 4x4 cm²، l_g = 0.06 cm، l_c = 40 cm
 اثر چگالی شار حاصله هوای 1.2^T فرزند شود بطول هسته محاسبات زیر: (الف) ولتاژ القاشده در سیم پیچ با چگالی شار سینوسی و فرکانس 50 هرتز. (ب) رلوکتانس مسیر مغناطیسی (ج) امپدانس هسته، (د) انرژی ذخیره شده در میدان مغناطیسی تحت چگالی شار 1.2^T! (B_{max} = 1.2^T)



$$B = 1.2 \sin 314t \quad \lambda_m = 1.152 \text{ wbT} \quad \lambda = 1.152 \sin 314t$$

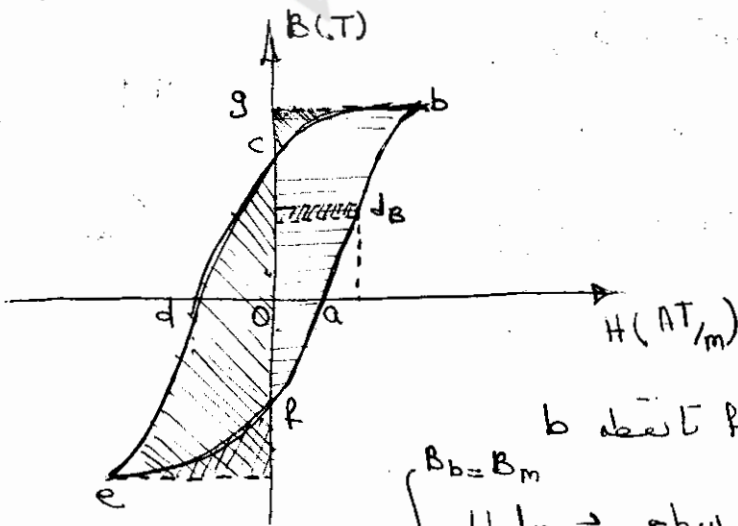
$$e = \frac{d\lambda}{dt} = 361.7 \cos 314t \quad R_c = \frac{l_c}{\mu_0 \mu_r A_c} = 3.317 \times 10^4$$

$$R_g = \frac{l_g}{\mu_0 A_g} = 29.856 \times 10^4 \quad i = 1.06 \text{ A} \quad L = \frac{\lambda}{i}$$

$$L = \frac{1.152}{1.06} = 1.08 \text{ H}$$

$$W_p = \int_{\lambda} i d\lambda = \int_0^{\lambda} \frac{\lambda}{L} d\lambda = \frac{1}{2} \frac{\lambda^2}{L}$$

$$W_p = 0.6144 \text{ J}$$



تلفات هیستریزیس:

تلفات هیستریزیس، در هر دوره تناوب از تغییرات میدان سطح زیر منحنی هیستریزیس ماده مورد بحث به عنوان تلفات هیستریزیس شناخته می شود.

انرژی در زمان افزایش چگالی شار در میدان از نقطه f تا نقطه b

$$\int_{B_b=B_m}^{B_f} H dB = \text{سطح of abgo} = \text{انرژی ذخیره شده در میدان مغناطیسی}$$

انرژی منفی در زمان کاهش H از مقدار اکثریه تا صفر یعنی چگالی شار از B_m تا B_c:

$$\int_{B_b}^{B_c} H dB = \text{سطح cbg}$$

میدان با فرکانس ν و حجم V $P_h = W \cdot \nu \cdot V$
 تلفات هیستریزیس: $W_h = f \cdot \text{سطح } abcdef$

تلفات هیستریزیس: $P_h = k_h \cdot f \cdot B_m^n$ $1.5 < n < 2.5$

(n برای مواد مختلف است و در سریته های الکترومغناطیس معمولاً $n = 1.6$) (k_h ضریب)

*رابطه اشپینر منتر:

تلفات فوکو: تلفات اهدو هسته از جریان القاشده در آن.



حرون کروی، فوکو

برای کاهش تلفات فوکو:

- 1) با انتخاب ورق های نازک برای هسته.
- 2) انتخاب ورق ها با مقاومت های زیاد
- 3) عایق کردن سطح ورق ها با مواریعایی

تلفات فوکو: $P_e = f^2 \cdot B_m^2 \cdot k_e$ ($k_e =$ ضریب هسته)

محاسبه تلفات هسته:

ازینحنای های چگالی تلفات ($\frac{P}{kg}$)

